



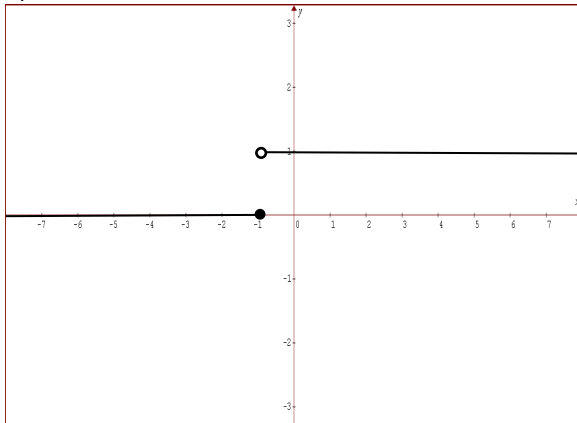
ESCUELA SUPERIOR POLITÉCNICA DEL LITORAL  
FACULTAD DE CIENCIAS NATURALES Y MATEMÁTICAS  
DEPARTAMENTO DE MATEMÁTICAS  
CURSO DE NIVELACIÓN 2015 – 1S



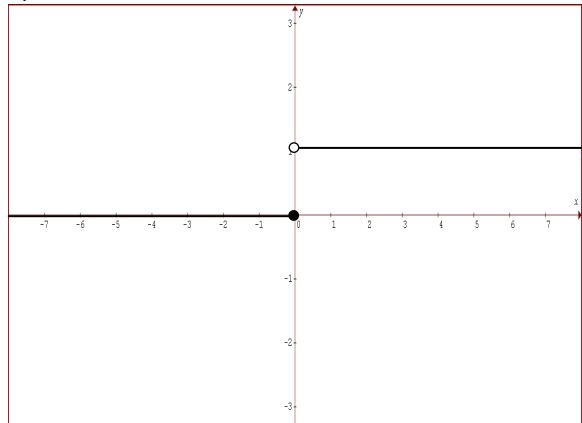
SEGUNDA EVALUACIÓN DE MATEMÁTICAS PARA INGENIERÍAS Y EDUCACIÓN COMERCIAL  
GUAYAQUIL, 14 DE SEPTIEMBRE DE 2015  
HORARIO: 11H30 – 13H30  
VERSIÓN 1

1) Sea la función  $f(x) = \begin{cases} 1 - e^{x+1}, & x \geq -1 \\ \ln(-x), & x < -1 \end{cases}$ , la gráfica de la función  $g(x) = \mu(f(x))$  es:

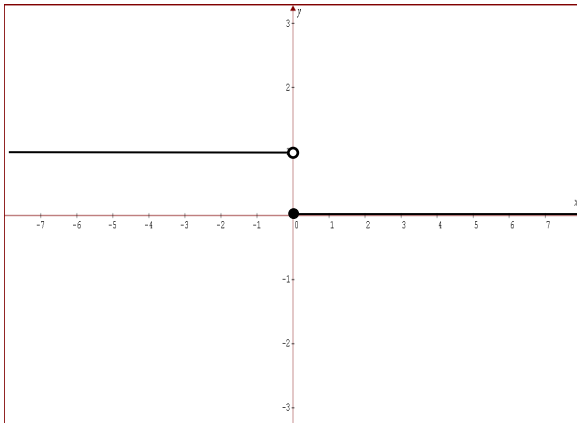
a)



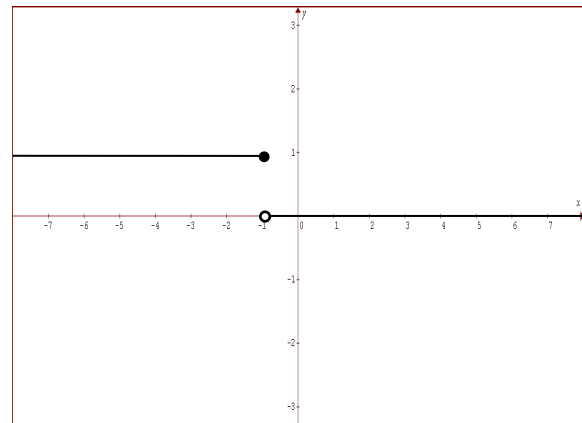
b)



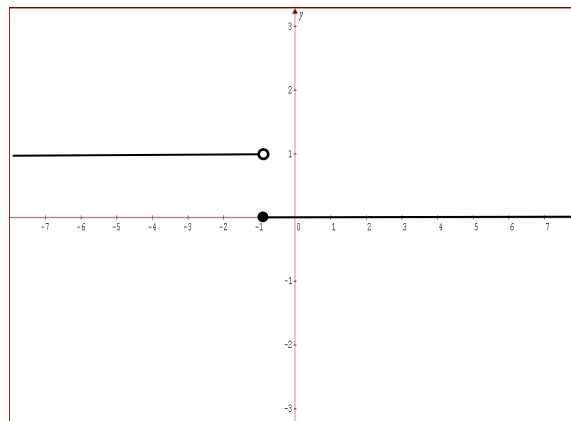
c)



d)



e)



2) Sea la función  $f(x) = \log_{\frac{1}{2}}|x-2|$  y el predicado  $p(x): 1 < f(x) < 8$ . Sea el conjunto referencial  $\text{Re} = \mathbb{R}$ , entonces  $Ap(x)$  es el intervalo:

a)  $\left(\frac{2^9-1}{2^8}, 2\right) \cup \left(2, \frac{2^9+1}{2^8}\right)$

b)  $\left(\frac{3}{2}, \frac{2^9-1}{2^8}\right) \cup \left(\frac{2^9+1}{2^8}, \frac{5}{2}\right)$

c)  $\left(\frac{3}{2}, 2\right) \cup \left(2, \frac{5}{2}\right)$

d)  $\left[\frac{3}{2}, \frac{5}{2}\right]$

e)  $\left(\frac{3}{2}, \frac{5}{2}\right)$

3) Para que la expresión:

$$\left[ \frac{\text{sen}(4\theta) + \text{sen}(2\theta)}{\text{sen}(4\theta) - \text{sen}(2\theta)} = \Psi \right]$$

sea una identidad trigonométrica, el valor de  $\Psi$  debe ser igual a:

a)  $\tan(3\theta)$

b)  $\cot(3\theta)$

c)  $\tan(3\theta)\cot(\theta)$

d)  $\tan(\theta)\cot(3\theta)$

e)  $\tan(3\theta)\cot(3\theta)$

- 4) Sea  $f: \mathbb{R} \mapsto Y$  una función biyectiva cuya regla de correspondencia es  $f(x) = 3\arctan\left(\frac{x}{3} + 2\right) - \pi$ , entonces el conjunto  $Y$  es igual a:

a)  $\left(-\frac{5\pi}{2}, \frac{\pi}{2}\right)$

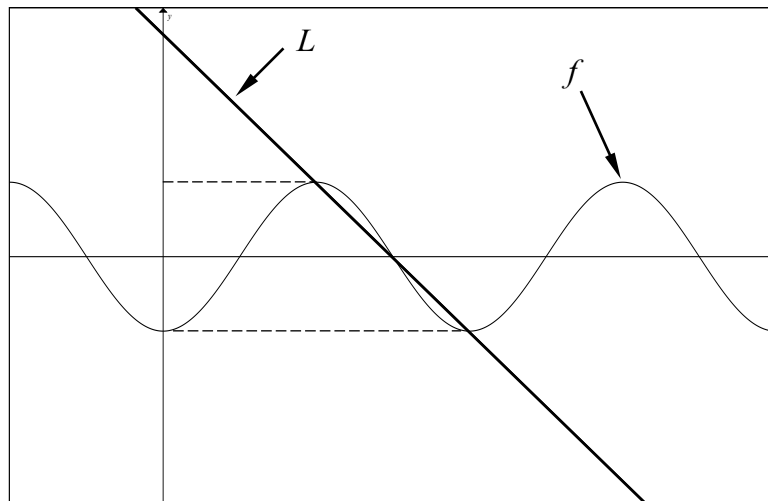
b)  $\left(-\frac{\pi}{3}, \frac{\pi}{3}\right)$

c)  $\left(-\frac{\pi}{4}, \frac{5\pi}{4}\right)$

d)  $\left(-\frac{2\pi}{3}, \frac{4\pi}{3}\right)$

e)  $\left(-\frac{2\pi}{5}, \frac{3\pi}{5}\right)$

- 5) Dada la gráfica de la función  $f: \mathbb{R} \mapsto \mathbb{R}$  definida por  $f(x) = -3\cos\left(\frac{\pi x}{2}\right)$ , entonces la ecuación de la recta  $L$  es:



a)  $3x + y - 9 = 0$

b)  $x + y - 9 = 0$

c)  $3x + y - 12 = 0$

d)  $x + 2y - 7 = 0$

e)  $3x + y - 5 = 0$

6) Dado el conjunto referencial  $Re = [0, 3\pi]$  y el predicado  $p(x): \left\| 2\cos\left(\frac{2x}{3}\right) \right\| = 1$ , el conjunto de verdad  $Ap(x)$  es el intervalo:

- a)  $[\pi, 2\pi]$
- b)  $\left[\frac{\pi}{2}, \frac{5\pi}{2}\right]$
- c)  $(0, \pi] \cup [2\pi, 3\pi)$
- d)  $\left(0, \frac{3\pi}{4}\right] \cup \left[\frac{11\pi}{4}, 3\pi\right)$
- e)  $\left(0, \frac{\pi}{2}\right] \cup \left[\frac{5\pi}{2}, 3\pi\right)$

7) Sean  $A$  y  $B$  dos matrices de orden  $3 \times 3$ , tales que  $A$  es una matriz INVOLUTIVA y  $B$  es una matriz ESCALAR con  $\det(B) = a^3$ , entonces el valor de  $\left(\frac{\det(B^T) + \det(A^2)}{\sqrt[3]{\det(B^T + A^2)}}\right)$  es

igual a:

- a)  $a^2 + 1$
- b)  $a + 1$
- c)  $(a + 1)^2$
- d)  $a^2 - a + 1$
- e)  $a^2 + a + 1$

- 8) En un local de un centro comercial se venden teléfonos celulares Nokia, Samsung y BlackBerry. Adicionalmente, se conoce que en cierto momento, sin considerar los teléfonos Samsung, el local cuenta con 5 teléfonos para la venta; sin considerar los Nokia, posee 7 teléfonos; y, sin considerar los BlackBerry, el local tiene a disposición de sus clientes 4 teléfonos. Luego, el total de teléfonos con los que el local cuenta en este momento, es igual a:

- a) 16
- b) 12
- c) 10
- d) 9
- e) 8

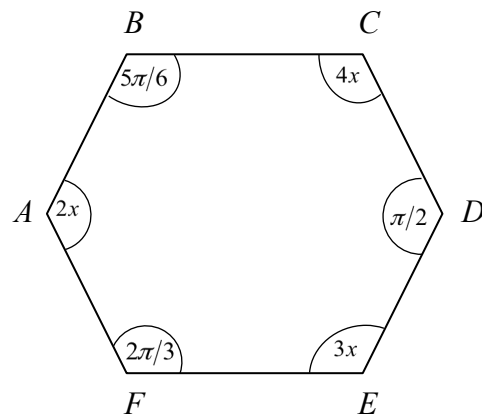
9) Si  $\begin{vmatrix} a & b & c \\ d & e & f \\ g & h & i \end{vmatrix} = 10$ , el valor numérico de  $\begin{vmatrix} 3a-c & 2b & c \\ 3d-f & 2e & f \\ 3g-i & 2h & i \end{vmatrix}$  es igual a:

- a) -60
- b) -30
- c) 30
- d) 60
- e) 90

10) Al simplificar la expresión con números complejos  $\left[ \frac{i^{45}(-3-2i)}{(1+3i)(1-3i)} \right]^2$ , se obtiene:

- a)  $\left(-\frac{1}{5} - \frac{3}{10}i\right)^2$
- b)  $\left(\frac{1}{5} - \frac{3}{10}i\right)^2$
- c)  $\left(\frac{3}{10}i\right)^2$
- d)  $\left(-\frac{3}{10}i\right)^2$
- e)  $\left(\frac{1}{5} + \frac{3}{10}i\right)^2$

11) Considere el polígono  $ABCDEF$  de la figura:



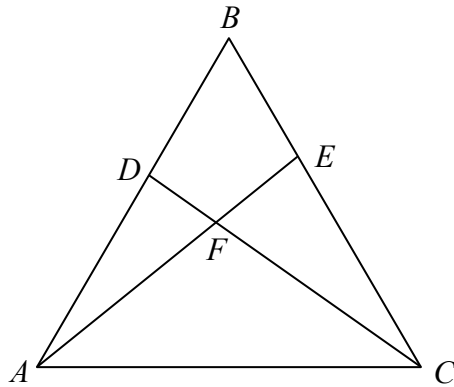
El valor numérico de  $x$ , en grados sexagesimales, es igual a:

- a) 10                      b) 20                      c) 30                      **d) 40**                      e) 50

12) Un cazador divisa un pavo silvestre que se encuentre sobre un árbol. El cazador apunta con un ángulo de elevación de  $30^\circ$  y para mejorar su tiro se acerca  $100\text{ m}$  obteniendo un ángulo de elevación de  $45^\circ$ . La altura del árbol, despreciando la altura del cazador, en  $m$ , es igual a:

- a)  $25(\sqrt{3}+1)$   
**b)  $50(\sqrt{3}+1)$**   
c)  $50(\sqrt{3}-1)$   
d)  $50(\sqrt{3}+2)$   
e)  $100\sqrt{3}$

13) Considere el triángulo de la figura:

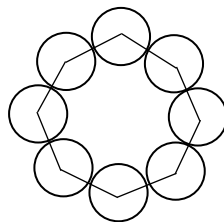


Si  $\overline{AD} = 2u$ ,  $\overline{EC} = \frac{3}{2}u$ ,  $\overline{EF} = \frac{1}{2}u$ , y  $m(\sphericalangle FDB) = m(\sphericalangle BEA) = 90^\circ$ , entonces el valor

del segmento  $\overline{DF}$ , en unidades, es igual a:

- a)  $0.\overline{6}$
- b)  $0.\overline{3}$
- c) 1
- d)  $\frac{1}{3}$
- e)  $\frac{4}{3}$

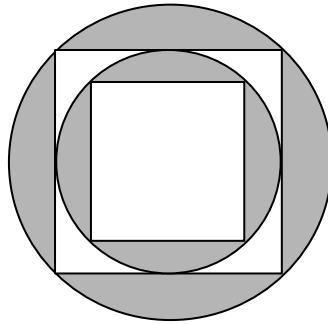
14) Todas las circunferencias de la figura adjunta son tangentes entre sí.



Si estas circunferencias son congruentes y la longitud de cada una es igual a  $4\pi$  cm, el perímetro del polígono que se obtiene al unir los centros de las circunferencias, en cm, es igual a:

- a) 36
- b) 32
- c) 28
- d) 16
- e) 4

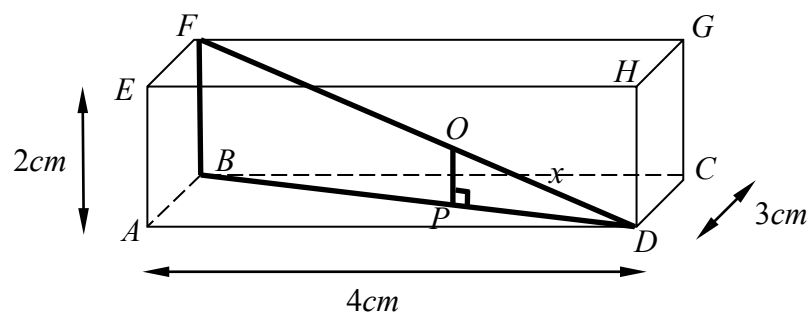
- 15) La figura adjunta está compuesta por 2 círculos concéntricos y 2 cuadrados inscritos en ellos. Si el lado del cuadrado de menor área mide  $a$  unidades, entonces el área sombreada, en  $u^2$ , es igual a:



- a)  $\frac{3\pi}{2}a^2$   
 b)  $a^2(\pi - 2)$   
 c)  $2a^2 + 2a^2\pi$   
 d)  $a^2\left(\frac{3\pi}{2} - 3\right)$   
 e)  $a^4 - a^2 + a^2\pi$

- 16) La figura adjunta es un ortoedro con las dimensiones especificadas. Si la longitud del segmento de recta  $\overline{PD}$  es la tercera parte del segmento  $\overline{BD}$ , entonces la longitud  $x$ , que corresponde a la longitud del segmento  $\overline{OD}$ , en  $cm$ , es igual a:

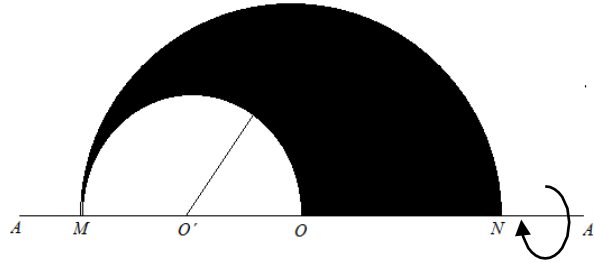
- a)  $\frac{\sqrt{29}}{5}$   
 b)  $\frac{1}{\sqrt{29}}$   
 c)  $\frac{\sqrt{25}}{3}$   
 d)  $\frac{\sqrt{29}}{3}$   
 e)  $\frac{3}{\sqrt{29}}$





- 17) Si se conoce que  $\overline{MN} = a \text{ cm}$ , el volumen que se obtiene al rotar la región sombreada alrededor del eje  $AA'$ , en  $\text{cm}^3$ , es igual a:

- a)  $\frac{5\pi a^3}{48}$   
 b)  $\frac{11\pi a^3}{48}$   
 c)  $\frac{12\pi a^3}{47}$   
 d)  $\frac{6\pi a^3}{47}$   
 e)  $\frac{7\pi a^3}{48}$



- 18) Si el área de la superficie total de un tetraedro regular es  $16\sqrt{3}u^2$ , entonces su volumen, en  $u^3$ , es igual a:

- a)  $\frac{16\sqrt{2}}{5}$   
 b)  $\frac{16\sqrt{3}}{5}$   
 c)  $\frac{16\sqrt{2}}{2}$   
 d)  $\frac{16\sqrt{2}}{3}$   
 e)  $\frac{16\sqrt{3}}{3}$

- 19) Sean  $\vec{V}_1$  y  $\vec{V}_2$  vectores en  $\mathbb{R}^3$  tales que  $\vec{V}_1 = (3, 0, -2)$  y  $\vec{V}_2 = (-5, 2, 1)$ , entonces el vector  $\vec{V}$  que cumple con  $\vec{V} = 2\vec{V}_1 - 3\vec{V}_2$ , es igual a:

- a)  $(21, -6, -7)$   
 b)  $(-21, -6, -7)$   
 c)  $(21, 6, 7)$   
 d)  $(21, 6, -7)$   
 e)  $(-21, 6, 7)$

20) Sean los vectores  $\vec{A} = -3i - j + 2k$  y  $\vec{B} = i + j - 2k$ , dos vectores no colineales en  $\mathbb{R}^3$ . Se tiene un tercer vector  $\vec{C} = 2i - 4j + 8k$  también en  $\mathbb{R}^3$ . Los valores de  $p$  y  $q$  tales que  $\vec{C} = p\vec{A} + q\vec{B}$ , son respectivamente:

- a) 7 y -3
- b) -7 y -3
- c) 3 y 7
- d) -3 y -7
- e) 3 y -7

21) Sean  $A$  y  $B$  los puntos de intersección entre la parábola  $P: y^2 + x - 4 = 0$  y la circunferencia  $C: x^2 + y^2 - 8x - 4 = 0$ . Si  $O$  es el centro de  $C$ , entonces el área de la superficie del triángulo  $ABO$ , en  $u^2$ , es igual a:

- a)  $\sqrt{3}$
- b)  $\frac{\sqrt{3}}{2}$
- c) 4
- d) 8
- e) 16

22) Si los focos de una elipse son los puntos  $F_1(-4,3)$  y  $F_2(2,3)$  y el perímetro del triángulo cuyos vértices son  $F_1$ ,  $F_2$  y un punto de la elipse, es igual a 16 unidades, entonces la ecuación general de la elipse es:

- a)  $16x^2 + 25y^2 + 32x - 150y - 159 = 0$
- b)  $25x^2 + 16y^2 + 32x + 150y - 159 = 0$
- c)  $16x^2 + 25y^2 - 32x - 150y + 159 = 0$
- d)  $25x^2 + 16y^2 + 150x - 32y - 159 = 0$
- e)  $16x^2 + 25y^2 + 32x - 150y + 159 = 0$

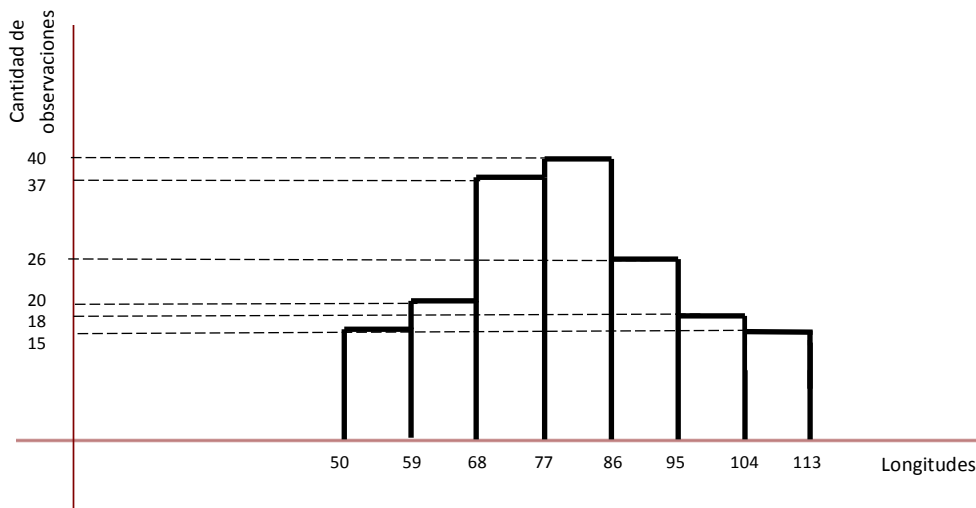
23) Sea el siguiente sistema de ecuaciones no lineales:

$$\begin{cases} x^2 - y^2 = 1 \\ 2y^2 - x^2 = 1 \end{cases}$$

Sean los conjuntos referenciales  $Re_x = Re_y = \mathbb{R}$ . Si  $(a, b)$  es una solución del sistema, entonces el valor de  $|a| + |b|$  es igual a:

- a)  $\sqrt{5} + \sqrt{2}$
- b)  $\sqrt{3} + \sqrt{2}$
- c)  $\sqrt{5}$
- d) 1
- e) 5

24) Dado el histograma de frecuencias:



Se puede AFIRMAR que:

- a) El número total de datos es igual a 168 y la máxima frecuencia absoluta es igual a 40.
- b) Si la mínima frecuencia absoluta es igual a 15, entonces la máxima frecuencia absoluta es igual a 30.
- c) El número total de datos es igual a 171 o la mínima frecuencia absoluta es igual a 18.
- d) Para el intervalo  $[68, 77)$ ,  $X_{MC} = 72$  o el número total de datos es igual a 186.
- e) Al menos hay una frecuencia absoluta que se repite tres veces.

25) En una urna se introducen 5 bolas de color negro y 3 de color blanco. Si se seleccionan 2 bolas al azar, sin reemplazo, entonces la probabilidad de que al menos una bola blanca sea seleccionada es igual a:

- a)  $\frac{3}{28}$
- b)  $\frac{9}{14}$
- c)  $\frac{15}{56}$
- d)  $\frac{15}{28}$
- e)  $\frac{9}{64}$