

7. Un robot lego mindstorm debe atravesar un laberinto, pero no posee sensores, por lo que se ha programado para que un operador envíe los comandos a través de una aplicación móvil por Bluetooth. Qué tipo de robot es? (2 puntos)
 - a. Auto-contenido
 - b. Atado
 - c. Autónomo

8. Enumere las partes de un Robot Móvil y describa con sus palabras cada una de ellas. (10 puntos)

9. En qué se diferencian un actuador neumático de un hidráulico? (1 punto)

10. Marque, verdadero (V) o falso (F). (1 punto)
En la robótica, la estructura de soporte Endo-esqueletica es aquella que como en el hombre soportan el cuerpo desde adentro. ()

11. Qué dispositivos de salida NO son comunes en los robots? (1 puntos)
 - a. Una pantalla de vídeo
 - b. Temperatura
 - c. Leds
 - d. Sonido

12. Describa las ventajas y desventajas del uso de protoboards para crear prototipos de robots. (4 puntos)

13. Escriba los colores que tienen las siguientes resistencias: (5 puntos)
82K Ω
330K Ω
2.7 Ω
150 Ω
10 Ω

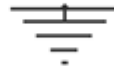
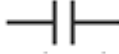
14. Escriba los valores que tienen las siguientes resistencias: (5 puntos)

- naranja naranja dorado
- cafe negro cafe
- rojo rojo negro
- cafe rojo negro
- rojo violeta negro

15. Los capacitores funcionan como: (2 puntos)

- a. Limitadores de corriente.
- b. Interruptores que permiten abrir o cerrar circuitos.
- c. Almacenadores de energía.
- d. Bloqueo para el flujo de corriente en un solo sentido.

16. Identifique los siguientes elementos electrónicos: (4 puntos)



17. Enumere al menos cuatro buenas prácticas para depurar errores en prototipos. (4 puntos)

- 1.
- 2.
- 3.
- 4.

18. _____ significa "Recibir por uno de los sentidos las impresiones del objeto". (2 puntos)

- a. sentir
- b. percibir
- c. transducir
- d. reducir

19. Se desea medir las distancias de distintos objetos que se encuentran en un rango de 1 metro del robot. Si se requiere una precisión de 1 cm, se podría utilizar un convertidor A/D de 8-bits? Justifique su respuesta. (5 puntos)

20. Marque, verdadero (V) o falso (F). (1 punto)

Los *sensores propioceptivos* en la robótica facilitan la información necesaria para que el robot pueda comprender el mundo real. ()

21. Sensores en la robótica. Marque la respuesta CORRECTA: Los sensores Piroeléctricos son aquellos que: (2 puntos)

- a) Permiten medir distancias próximas a un objeto.
- b) Trabajan en las longitudes de onda ultravioleta.
- c) Trabajan en las longitudes de onda Infrarrojas.
- d) Cambian el valor de resistencia con la cantidad de luz recibida.

22. Describa 1 desventaja y una ventaja del manejo de un robot con arreglo: (8 puntos)
Diferencial

Sincrónico

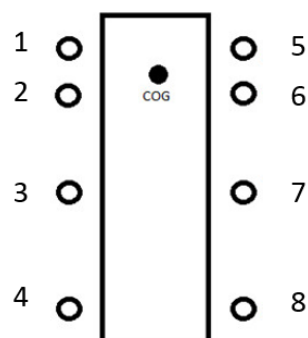
Ackerman

Omnidireccional

23. Describa 2 ventajas y 2 desventajas de los robots con patas frente a los robots con ruedas. (8 puntos)

24. Si se tiene un robot de 8 patas como en la figura, describa si el robot se encuentra en equilibrio estático cuando se levantan las siguientes patas: (10 puntos)

- a) 3,4,7,8
- b) 2,4,6,8
- c) 2,5,6,8
- d) 3,5,6,8
- e) 3,4,5,7



25. Describa 1 desventaja y una ventaja de un robot: (4 puntos)

2 patas:

6 patas:

26.Cuál de las siguientes opciones es la mejor alternativa para un robot todo terreno. (1 punto)

- a. llantas
- b. orugas
- c. patas
- d. Todas las anteriores

27. Un robot móvil en cuántos GDL puede desplazarse? Indique cuales y porqué. (2 puntos)

28. Se requiere que el robot omnidireccional de la figura se desplace hacia la derecha según la flecha, cuál debe ser el accionamiento de los motores A, B y C (Dirección, velocidad)? (3 puntos)

Opciones	a)		b)		c)	
	dir	vel	dir	vel	dir	vel
A	+	1	+	1	+	1
B	+	0	+	0,5	-	0,5
C	+	0	-	0,5	+	0,5

