



1ra EVALUACIÓN DE QUÍMICA GENERAL 1
VIERNES DICIEMBRE-12 -2014

COMPROMISO DE HONOR

Yo,.....al firmar este compromiso, reconozco que el presente examen está diseñado para ser resuelto de manera individual, que puedo usar una calculadora ordinaria para cálculos aritméticos; que solo puedo comunicarme con la persona responsable de la recepción del examen; y, cualquier instrumento de comunicación que hubiere traído, debo apagarlo y depositarlo en la parte anterior del aula. No debo además consultar libros, notas ni apuntes adicionales a los que se entreguen en esta evaluación. Los temas debo desarrollarlos de manera ordenada.

Firmo al pie del presente compromiso, como constancia de haber leído y aceptar la declaración anterior.

(f)..... MATRÍCULA #..... PARALELO:

Tema 1 (10 puntos): Dibujar las **estructuras de Lewis** del Ion Amonio NH_4^+ y del AlCl_3 . Aplique el concepto de carga formal, explique si se cumple la Regla del Octeto.

Especie química	Átomo central	Número de e de valencia/ Número de e totales presentes en la especie química	Pares enlazantes y no enlazantes	Estructura de Lewis	Regla del octeto
Ion Amonio NH_4^+	N	a) 5 e de valencia b) $5 + 4 \times 1 - 1 = 8e$ totales	4 pares enlazantes, 0 pares no enlazantes		Si cumple: El N al enlazar tiene $8e^-$
AlCl_3	Al	a) 3 e de valencia b) $3 + 3 \times 7 = 24 e$ totales	3 pares enlazantes, 0 pares no enlazantes		No cumple: El Al al enlazar solo tiene $6e^-$

Rúbrica

Distribución de notas	0.5 p por cada respuesta correcta	0.75 por cada respuesta correcta	1 por cada respuesta correcta	1.5 puntos por cada respuesta correcta	0.5 por cada respuesta correcta
TOTAL 10 puntos	1 punto	3 puntos	2 puntos	3 puntos	1 punto

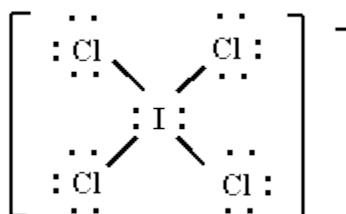
Tema 2 (10 puntos): Geometría molecular.

Prediga las geometrías de dominios y geometría molecular de la molécula ICl_4^-

RESOLUCIÓN:

a) Dibujar estructura de Lewis (4 Puntos)


Nº de electrones: I (7 e) + 4 Cl (28 e) + 1 e = 36 electrones de valencia.



b) Geometría de dominios de electrones (3 puntos):

Según la estructura de Lewis, la molécula tiene un total de 6 dominios de electrones: 4 enlazantes y 2 no enlazantes, formando una “geometría de dominios de electrones Octaédrica”.

c) Geometría molecular (3 puntos):



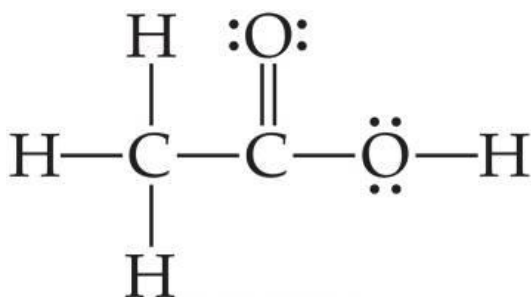
Por tanto, su geometría es “Cuadrada Plana”

Rúbrica:

Rúbrica pregunta				
Conductas y niveles de desempeño (Inicial/En desarrollo/Desarrollado/Excelente) y calificación sobre 10 puntos				
	Sobre 10 puntos			
	INICIAL 0 a 2	EN DESARROLLO más de 2, hasta 4	DESARROLLADO más de 4, hasta 7	EXCELENTE más de 7, hasta 10
NIVELES DE EJECUCIÓN DESEMPEÑO	El estudiante determina apropiadamente los electrones de valencia y determina correctamente la estructura de Lewis	El estudiante determina correctamente la estructura de Lewis	El estudiante determina apropiadamente la geometría de dominios de electrones: pares enlazantes y no enlazantes	Además el estudiante determina correctamente y define la geometría molecular.
Puntaje	2p	4p	7p	10p

Tema 3: Geometría molecular. (10 puntos)

Para la molécula dada:



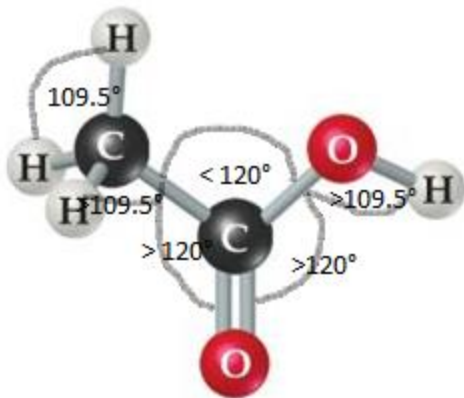
- Indique el número de dominios de electrones (2,5 puntos)
- Indique la geometría de dominios de electrones (2,5 puntos)
- Indique los ángulos de enlaces en la molécula (2,5 puntos)
- Prediga y dibuje la geometría de la molécula. (2,5 puntos)

RESOLUCIÓN:

a), b) y c)

	$\begin{array}{c} \text{H} \\ \\ \text{H}-\text{C} \\ \\ \text{H} \end{array}$	$\begin{array}{c} :\text{O}: \\ \\ \text{C} \end{array}$	$\begin{array}{c} \cdot\cdot \\ \cdot\cdot \\ \text{O}-\text{H} \end{array}$
Número de dominios de electrones	4	3	4
Geometría de dominio de electrones	Tetraédrica	Trigonal plana	Tetraédrica
Ángulos de enlace predichos	109.5°	120°	109.5°

d) Prediga y dibuje la geometría de la molécula.



Rúbrica:

Rúbrica pregunta				
Conductas y niveles de desempeño (Inicial/En desarrollo/Desarrollado/Excelente) y calificación sobre 10 puntos				
Sobre 10 puntos				
	INICIAL 0 a 2,5	EN DESARROLLO más de 2,5 hasta 5	DESARROLLADO más de 5 hasta 7,5	EXCELENTE más de 7, hasta 10
NIVELES DE EJECUCIÓN DESEMPEÑO	El estudiante determina apropiadamente el número de dominios de electrones	El estudiante determina correctamente la geometría de dominios de electrones	El estudiante determina apropiadamente los ángulos de enlaces en la molécula	Además el estudiante Predice y dibuja la geometría de la molécula.
Puntaje	2,5p	5p	7,5p	10p

Tema 4 (10 puntos): Problema sobre curvas de calentamiento

Calcular la cantidad de energía (en kJ) necesaria para convertir 187 gramos de hielo de -35°C en vapor de agua a 175°C , bajo una presión constante de 1 atm.

CALORES ESPECIFICOS AGUA EN TRES FASES (J / g - K)		
VAPOR	LÍQUIDO	SÓLIDO
1.99 J / g . $^{\circ}\text{C}$	4.184 J / / g . $^{\circ}\text{C}$	2.03 J / / g . $^{\circ}\text{C}$
Cambios de entalpía (kJ / mol)		
Calor de vaporización	Calor de fusión	
40.79 kJ/mol.	6.01 kJ/mol	

A continuación se solicita graficar la curva de calentamiento, e indicar utilizando flechas, la fase sólida, líquida, gaseosa, punto de fusión, punto de ebullición, equilibrio sólido-líquido y equilibrio líquido-vapor.

SOLUCIÓN: 6 puntos

(1 punto) Paso 1: Calentamiento del hielo desde -35°C hasta 0°C

$$q = ms \Delta t$$

$$q_1 = 187\text{g} \times 2.03\text{ J/g.}^{\circ}\text{C} (0 - (-35))^{\circ}\text{C}$$

$$q_1 = 13.29\text{ kJ}$$

(1 punto) Paso 2: Fusión del hielo

$$\Delta H_{\text{fus}} = 6.01\text{ kJ/mol}$$

$$q_2 = 187\text{g} \times (1\text{mol}/18\text{g}) \times (6.01\text{kJ}/\text{mol})$$

$$q_2 = 62.44\text{ kJ}$$

(1 punto) Paso 3: Calentamiento del agua desde 0°C hasta 100°C

$$q = ms \Delta t$$

$$q_3 = 187\text{g} \times 4.184\text{ J/g.}^{\circ}\text{C} (100 - 0)^{\circ}\text{C}$$

$$q_3 = 78.24\text{ kJ}$$

(1 punto) Paso 4: vaporización del agua

$$\Delta H_{\text{vap}} = 40.79\text{ kJ/mol}$$

$$q_4 = 187\text{g} \times (1\text{mol}/18\text{g}) \times (40.79\text{kJ}/\text{mol})$$

$$q_4 = 423.76\text{ kJ}$$

(1 punto) Paso 5: Calentamiento del vapor desde 100°C hasta 175°C

$$q = ms \Delta t$$

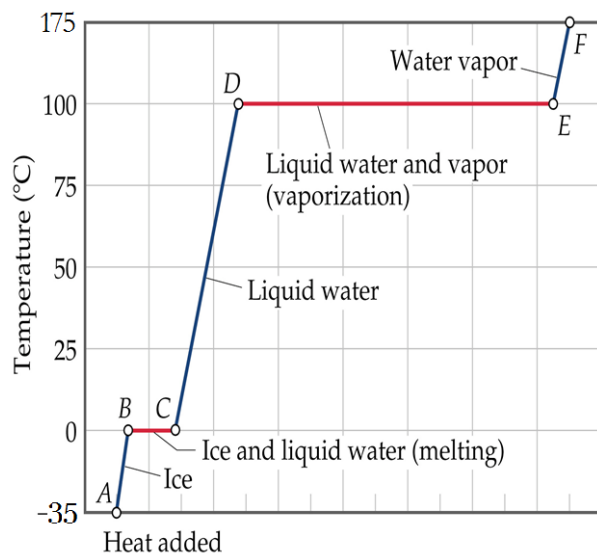
$$q_5 = 187\text{g} \times 1.99\text{ J/g.}^{\circ}\text{C} (175 - 100)^{\circ}\text{C}$$

$$q_5 = 27.91\text{ kJ}$$

$$(1\text{ punto}) \quad q_T = q_1 + q_2 + q_3 + q_4 + q_5$$

$$q_T = 13.29\text{ kJ} + 62.44\text{ kJ} + 78.24\text{ kJ} + 423.76\text{ kJ} + 27.91\text{ kJ} = 605.64\text{ kJ}$$

Gráfica: 4 puntos



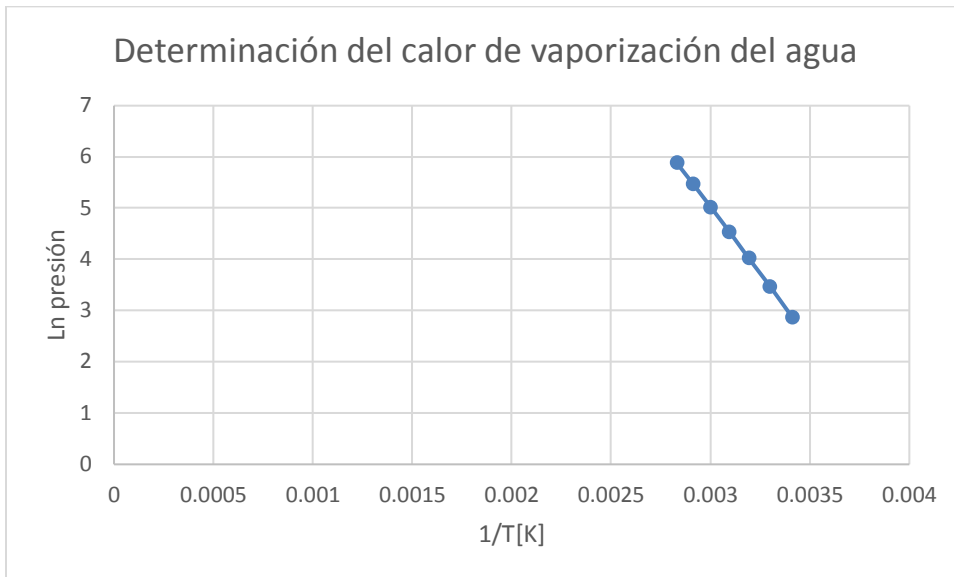
Tema 5 (10 puntos): Problema sobre calor molar de vaporización.

Los datos siguientes muestran la variación de la presión de vapor del agua en función de la temperatura:

T (°C)	20	30	40	50	60	70	80
P(mmHg)	17.54	31.82	55.32	92.51	149.38	233.7	355.21

Determine de forma gráfica el calor molar de vaporización del agua (ΔH_v). ($R=8.314$ J/mol*K).

T (°C)	20	30	40	50	60	70	80
P(mmHg)	17.54	31.82	55.32	92.51	149.38	233.7	355.21
1/T[K]	0,0034	0,0033	0,0032	0,0031	0,003003	0,0029	0,0028
Ln P	2,86	3,46	4,01	4,53	5,01	5,45	5,87



Valor de la pendiente = - $\frac{(Y2 - Y1)}{(X2 - X1)}$

$\Delta H_v = - (-5,185.6 \text{ K}) * (8.314 \text{ J/mol K})$

$\Delta H_v = 43,113.17 \text{ J/mol} = 43.11 \text{ Kj/mol}$

Rúbrica pregunta				
Conductas y niveles de desempeño (Inicial/En desarrollo/Desarrollado/Excelente) y calificación sobre 10 puntos				
Sobre 10 puntos				
	INICIAL 0 a 3	EN DESARROLLO más de 3, hasta 6	DESARROLLADO más de 6, hasta 8	EXCELENTE más de 8, hasta 10
NIVELES DE EJECUCIÓN DESEMPEÑO	El estudiante realiza apropiadamente las conversiones de los datos referentes a presión y temperatura.	El estudiante realiza apropiadamente las conversiones los datos de presión, temperatura y realiza la gráfica.	El estudiante realiza apropiadamente las conversiones los datos de presión, temperatura, realiza la gráfica correctamente, y plantea la fórmula para obtener la pendiente.	El estudiante transforma apropiadamente los datos de presión, temperatura, realiza la gráfica correctamente, plantea la fórmula para sacar la pendiente y obtiene el valor del ΔH_v .
Puntaje	3p	6p	8p	10p

Tema 6 (10 puntos): Conceptos y Problema sobre calor molar de vaporización.

El butano líquido, C_4H_{10} , se almacena en cilindros para utilizarse como combustible. El punto normal de ebullición del butano es de $-0.5^\circ C$.

Datos: $R= 0.082 \text{ L}\cdot\text{atm}/\text{mol}\cdot\text{K}$; $C= 12.01 \text{ uma}$; $H= 1.008 \text{ uma}$; $PV=nRT$

(a) Suponga que un tanque de butano se deja al sol y alcanza una temperatura de $46^\circ C$. ¿Cabe esperar que la presión en el tanque sea mayor o menor que la presión atmosférica? ¿Qué tanto depende la presión dentro del tanque de la cantidad de butano líquido que contiene? (3 puntos)

Resp.: La presión en el tanque debe ser mayor que la presión atmosférica. En tanto esté presente algo de líquido, la presión de gas en el tanque será constante.

(b) Suponga que se abre la válvula del tanque y se deja escapar unos cuantos litros de butano a gran velocidad. ¿Qué esperaría que suceda con la temperatura del butano líquido que queda en el tanque? (3 puntos)

Resp.: Si escapa butano gaseoso del tanque, el butano líquido se vaporizará (se evaporará) para mantener la presión de vapor de equilibrio. La vaporización es un proceso endotérmico; el butano absorbe calor del entorno, y la temperatura del tanque y del butano líquido disminuye.

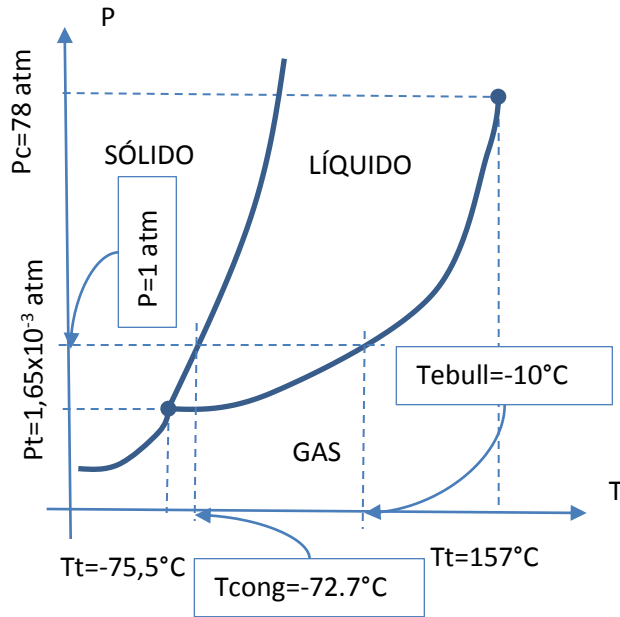
(c) ¿Cuánto calor debe agregarse para vaporizar 155 g de butano si su calor de vaporización es de $21.3 \text{ kJ}/\text{mol}$? ¿Qué volumen ocupa esta cantidad de butano a 755 torr y $35^\circ C$? (4 puntos)

Resp.:

$$\Delta H_v = 155 \text{ g } C_4H_{10} * \frac{1 \text{ mol } C_4H_{10}}{58.12 \text{ g } C_4H_{10}} * 21.3 \frac{\text{kJ}}{\text{mol}} = 56.8 \text{ kJ}$$
$$V = \frac{nRT}{P} = \frac{2.67 \text{ mol} * 0.082 \frac{\text{L} * \text{atm}}{\text{mol} * \text{K}} * 308 \text{ K}}{0.993 \text{ atm}} = 67.9 \text{ L}$$

Tema 7 (10 puntos): Problema sobre Diagramas de Fases.

a) Los puntos normales de ebullición y solidificación del SO_2 son de $-10^\circ C$ y $-72^\circ C$, respectivamente. El punto triple es de $-75.5^\circ C$ y $1.65 \times 10^{-3} \text{ atm}$, y su punto crítico está a $157^\circ C$ y 78 atm. Con esta información, dibuje el diagrama de fases del SO_2 , etiquetando los puntos dados, el nombre de las curvas de los diferentes estados y las áreas donde las fases son estables.



b) ¿El SO₂ sólido, flotará sobre el SO₂ líquido? Explique.

Resp.: Al trazar una isoterma a -72°C (p.ej.) y dirigirnos desde el estado líquido al sólido aumentamos la presión y disminuimos su volumen, y por tanto su densidad aumenta, lo que hace que el SO₂ sólido se hunda en el SO₂ líquido.

c) Trazando una isobara a 0.5 atm, explique si se producirá solidificación o sublimación si se reduce la temperatura del SO₂ desde -72°C hasta -80°C .

Resp.: La isobara de 0.5 atm está por encima del punto triple, por tanto al reducir la temperatura desde -72°C a -80°C , estamos pasando del estado líquido al sólido, siendo este cambio de estado “solidificación”.

d) Ud. posee muestras a 25°C de los siguientes gases:

Amonio:	$T_c = 132.5^{\circ}\text{C}$ y $P_c = 112.5$ atm
Metano:	$T_c = -82.1^{\circ}\text{C}$ y $P_c = 45.8$ atm
Dióxido de Azufre:	$T_c = 157.8^{\circ}\text{C}$ y $P_c = 77.7$ atm

¿Cuál o cuáles de ellos podrán ser licuados por presión, y cuál o cuáles no? Explique su respuesta.

T_c: Temperatura crítica

P_c: Presión crítica

Resp.: El metano a 25°C está muy por encima de su temperatura crítica, por tanto este es el único gas que no podrá ser licuado.

Rúbrica

a) 4 puntos

- 1,0 puntos si identifica que el diagrama de fases es la gráfica de P vs T,
- 1,0 puntos si además ubica las tres fases, Sólido Líquido y Gas
- 1,0 puntos si además identifica los puntos Triple y Crítico
- 1,0 puntos Si además ubica los puntos normales de congelación y ebullición

b) 2 puntos

Si explica correctamente por qué el SO₂ sólido se hunda en el SO₂ líquido.

c) 2 puntos

Si explica correctamente que se está pasando del estado líquido al sólido, siendo este cambio de estado “solidificación”.

d) 2 puntos

- 0,5 punto Si se percata que sólo la temperatura es importante en el análisis
- 0,5 puntos Si se percata que la temperatura debe ser convertida para podersele comparar y $T = 298 \text{ K} = 25^\circ\text{C}$
- 1 Punto si se percata que $T = 25^\circ\text{C} < T_t = 157^\circ\text{C}$ y que por tanto si se puede licuar este gas.

Tema 8 (10 puntos): Problema sobre fuerzas intermoleculares.

Establezca los tipos de fuerzas intermoleculares que se encuentran en cada una de las siguientes sustancias, y elija la sustancia de cada par la cual posea el punto de ebullición más bajo.

Sustancias	Tipos de fuerzas intermoleculares	Sustancia con punto de ebullición más bajo
a. C ₅ H ₁₂ b. C ₉ H ₂₀	Dispersión de London. Dispersión de London.	C ₅ H ₁₂
c. HOOH d. HSeSeH	Dispersión de London, Puentes de hidrógeno. Dispersión de London.	HSeSeH
e. NH ₂ NH ₂ f. NH ₄ NO ₃	Dispersión de London, puente de hidrógeno Dispersión de London, Enlaces iónicos.	NH ₂ NH ₂
g. F ₂ h. HF	Covalente no polar. Dispersión de London Dispersión de London. Puente de hidrógeno	F ₂
i. NF ₃ j. N ₂	Dispersión de London. Dipolo – Dipolo Dispersión de London. Covalente no polar	N ₂

Rúbrica

	Sobre 10 puntos		
	Inicial (4)	Desarrollado (7)	Excelente (10)
Niveles de desempeño	El estudiante define las fuerzas intermoleculares de solo 2 sustancias y determina cual es la sustancia con p. ebullición más bajo.	El estudiante define las fuerzas intermoleculares de 4 sustancias y determina una sustancia más (2) que tenga el punto de ebullición más bajo	El estudiante define todas las fuerzas intermoleculares y determina todas las sustancias que tengan el punto de ebullición más bajo.
Puntaje	4	7	10

Tema 9 (10 puntos): Problema de sólidos. Determinación de radio atómico y densidad.

El oro cristaliza con una celda unitaria cúbica centrada en las caras cuya arista mide 4.078 Å. El átomo en el centro de la cara está en contacto con los átomos de las esquinas,

- (a) Calcule el radio aparente de un átomo de oro en esta estructura.
- (b) Calcule la densidad del oro metálico

Resolución:

(a) $a = 4.078 \text{ \AA} = 4.078 \times 10^{-8} \text{ cm}$

La relación entre arista y radio para una celda cúbica centrada en las caras es: $a = 2r\sqrt{2}$,

Donde $r = \frac{a}{2\sqrt{2}} = \frac{4.078 \times 10^{-8} \text{ cm}}{2\sqrt{2}} = 1.44 \times 10^{-8} \text{ cm} = 1.44 \text{ \AA}$

- (b) El Au cristaliza en una celda cúbica centrada en las caras, por tanto le corresponden 4 átomos a la celda.

$$\text{Masa } m = \frac{4 \text{ átomos Au}}{\text{celda}} \times \frac{1 \text{ mol Au}}{6.022 \times 10^{23} \text{ átomos Au}} \times \frac{197 \text{ g Au}}{1 \text{ mol Au}} = 1.31 \times 10^{-21} \frac{\text{g}}{\text{celda}}$$

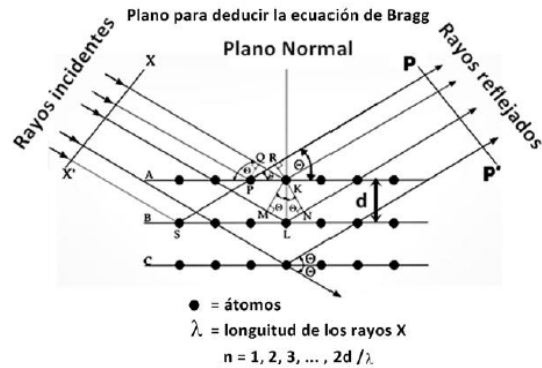
$$\text{Volumen } V = (a)^3 = (4.078 \times 10^{-8} \text{ cm})^3 = 6.78 \times 10^{-23} \text{ cm}^3$$

$$\text{Densidad} = \frac{\text{masa}}{\text{volumen}} = \frac{1.31 \times 10^{-21} \frac{\text{g}}{\text{celda}}}{6.78 \times 10^{-23} \text{ cm}^3} = 19.32 \frac{\text{g}}{\text{cm}^3}$$

Rúbrica pregunta				
Conductas y niveles de desempeño (Inicial/En desarrollo/Desarrollado/Excelente) y calificación sobre 10 puntos				
	Sobre 10 puntos			
NIVELES DE EJECUCIÓN DESEMPEÑO	INICIAL 0 a 3	EN DESARROLLO más de 3, hasta 6	DESARROLLADO más de 6, hasta 8	EXCELENTE más de 8, hasta 10
	El estudiante determina apropiadamente la relación entre arista y radio.	El estudiante realiza apropiadamente los cálculos y determina el radio de un átomo de oro.	El estudiante además determina correctamente la masa y el volumen de la celda unitaria.	El estudiante determina correctamente la densidad del Au.
Puntaje	3p	6p	8p	10p

Tema 10 (10 puntos): Problema de sólidos (Ecuación de Bragg)

Sir William Lawrence Bragg (1890-1972) fue quien formuló la ecuación fundamental de la difracción de los rayos X: ($n\lambda = 2d\sin\theta$). Considerando el plano reticular de un cristal, presentado en el gráfico a continuación, deduzca la ecuación de Bragg,



Su deducción de la ecuación de Bragg:

$$ML = d \text{ Sen}\theta / LN = d \text{ Sen}\theta / ML + LN = d \text{ Sen}\theta + d \text{ Sen}\theta = 2d \text{ Sen}\theta = n\lambda$$

$$\text{Ecuación de Bragg: } 2d \text{ Sen}\theta = n\lambda$$

Distancia entre planos reticulares = d ; $n = 1, 2, 3, \dots, 2d/\lambda$.

Angulo entre los rayos X y el plano reticular del cristal = θ

Rúbrica pregunta				
Conductas y niveles de desempeño (Inicial/En desarrollo/Desarrollado/Excelente) y calificación sobre 10 puntos				
Sobre 10 puntos				
NIVELES DE EJECUCIÓN DESEMPEÑO	INICIAL 0 a 3	EN DESARROLL 0 más de 3, hasta 6	DESARROLLAD 0 más de 6, hasta 8	EXCELENTE más de 8, hasta 10
	El estudiante analiza apropiadamente el problema.	El estudiante deduce apropiadamente el retardo de la segunda onda y la relaciona con la longitud de onda.	El estudiante además realiza correctamente los cálculos.	El estudiante determina correctamente la Ecuación de Bragg.
Puntaje	3p	6p	8p	10p