

**SOLUCION DEL EXAMEN PARCIAL DE FISICA B, I TERMINO 2009 – 2010
DESARROLLADO POR VÍCTOR HUGO VELASCO GALARZA**

1. Rellene los espacios en blanco del crucigrama respondiendo o completando a las frases listadas abajo

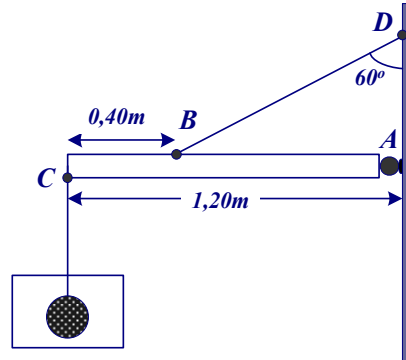
			2					6		8										
			V		1	S	U	P	E	R	P	O	S	I	C	I	O	N		
	1		A		4			A		I										
	F		R		P			S		2	T	U	R	B	U	L	E	N	T	O
3	L	A	M	I	N	A	R			C		O								
	U		A		O			A		T										
	I		B		P		5	L	7		4	R	E	Y	N	O	L	D	S	
	D		L		A		E	L							9					
	O		E		5	G	A	S	T	O	6	T	O	R	R	I	C	E	L	I
						A		F		N					N					10
			3			C		U		G					T					M
			D			I		E		I			7	E	M	P	U	J	E	
			E			O		R		T					N					C
			N			N		Z		U					S					A
			S					O		D					I					N
	8	P	O	I	S	S	O	N		I					D					I
			D			9	T	R	A	N	S	V	E	R	S	A	L			C
			A							A					D					A
10	F	U	N	D	A	M	E	N	T	A	L									

Horizontales:	Verticales:
1. Ocurre cuando dos o más ondas se propagan en un mismo medio	1. No transmiten esfuerzos cortantes
2. Si se forman vórtices, el flujo es...	2. En un flujo real la velocidad en una sección de la tubería es...
3. Cuando el número de Reynolds es menor que 2000	3. Masa por unidad de volumen de un cuerpo
4. Relación entre las fuerzas viscosas e inerciales	4. Transmisión de ondas a través de un medio
5. Caudal que circula en una tubería	5. La ley de Hooke relaciona... y deformación unitaria
6. Científico que calculó el valor de la presión atmosférica...	6. Unidad de presión del SI
7. Fuerza actuando sobre un cuerpo sumergido en un fluido	7. El sonido de una onda...
8. Coeficiente que cuantifica las deformaciones transversales	8. Instrumento usado para determinar la velocidad de un fluido.
9. Si las partículas del medio vibran normalmente a la dirección de propagación la onda es...	9. Energía por unidad de área y por unidad de tiempo.
10. Primer modo de vibración	10. Las olas del mar son un ejemplo de ondas...




SOLUCION DEL EXAMEN PARCIAL DE FISICA B, I TERMINO 2009 – 2010
DESARROLLADO POR VÍCTOR HUGO VELASCO GALARZA

2. En la figura se representa una tabla de masa 4 kg en equilibrio en posición horizontal. La tabla se encuentra articulada en A con la pared, y en su extremo tiene una cuerda unida con una esfera metálica de masa 2.5 kg y radio 5 cm, sumergida en agua.



- a. ¿Cuál es la tensión en la cuerda que sostiene la esfera?

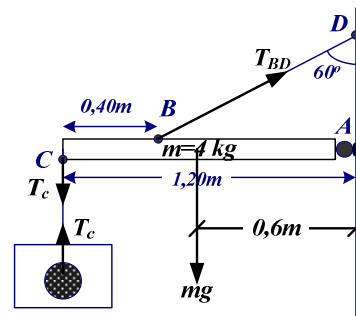


$$E + T_c = W$$

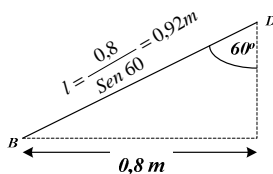
$$T_c = W - E = mg - \rho g V_s$$

$$T_c = \left[2,5 - 10^3 \left(\frac{4}{3} \pi (0,05)^3 \right) \right] 9,8$$

$$T_c = 19,37 \text{ [N]}$$



- b. Si la cuerda BD es de aluminio, formado por 5 hilos de 0.2 mm de diámetro cada uno, ¿Cuál era la longitud inicial?



$$E_{\Delta l} = \frac{\sigma}{\epsilon} = \frac{T/A}{\Delta l/l_0}$$

$$\Delta l = \frac{T l_0}{EA} = l - l_0$$

$$l_0 \left(1 + \frac{T}{EA} \right) = l$$

**SOLUCION DEL EXAMEN PARCIAL DE FISICA B, I TERMINO 2009 – 2010
DESARROLLADO POR VÍCTOR HUGO VELASCO GALARZA**

$$l_0 = \frac{l}{\left(1 + \frac{T}{E \frac{\pi}{4} D^2}\right)}$$

$$l_0 = \frac{0,92}{1 + \frac{4(23,38)}{(7 \times 10^{10}) \pi (0,2 \times 10^{-3})^2}}$$

$$l_0 = 0,914m$$

$$l_0 = 91,40cm$$

$$\Sigma \tau_A = 0$$

$$T_{BD} \cos 60^\circ (0,8) - mg(0,6) - T_C(1,2) = 0$$

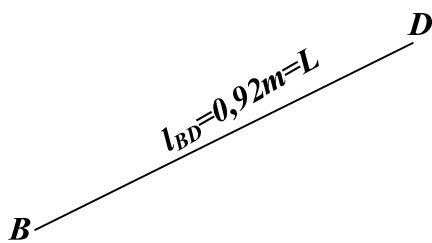
$$T_{BD} = \frac{1,2(19,37) + 0,6(4)(9,8)}{0,8 \cos 60^\circ}$$

$$T_{BD} = 116,91 [N]$$

$$T_{BD} = 5T$$

$$T = \frac{T_{BD}}{5} = 23,38 [N]$$

c. Determine el tiempo que le toma a un pulso en viajar a través de la cuerda BD



$$V = \sqrt{\frac{T_{BD}}{\mu}} = \sqrt{\frac{T_{BD}}{M/L}} = \sqrt{\frac{T_{BD} L}{5 * m}}$$

$$V = \sqrt{\frac{116,91(0,92)}{5 * 7,84 * 10^{-5}}}$$

$$V = 525,03 \text{ m/s}$$

$$\rho = \frac{m}{V} \Rightarrow m = V l = A * l * \rho$$

$$m = \frac{\pi}{4} D^2 * l * \rho$$

$$m = \frac{\pi}{4} (0,0002)^2 * 0,92 * 2700$$

$$m = 7,84 * 10^{-5} \text{ kg}$$

$$V = \frac{l_{BD}}{t}$$

$$t = \frac{l_{BD}}{V} = \frac{0,92}{525,03} = 1,76ms$$

SOLUCION DEL EXAMEN PARCIAL DE FISICA B, I TERMINO 2009 – 2010
DESARROLLADO POR VÍCTOR HUGO VELASCO GALARZA

3. Ondas estacionarias de pequeña amplitud, de longitud de onda λ ocurren en una cuerda con tensión T , masa por unidad de longitud μ , y longitud L . Un extremo de la cuerda está atado a un anillo de masa M que desliza sin fricción sobre una varilla, como es mostrado en la figura. Cuando la gravedad es despreciable, determine una expresión para las frecuencias a que puede vibrar la cuerda en función de los parámetros dados si $M \rightarrow 0$

$$L_n = (2n+1)\frac{\lambda}{4} \rightarrow \lambda = \frac{4L_n}{(2n+1)}$$

$$V = \lambda f \rightarrow f = \frac{V}{\lambda} = \frac{(2n+1)V}{4L}$$

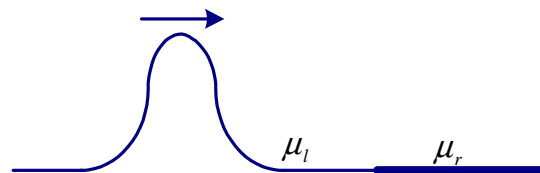
$$f_n = \frac{(2n+1)V}{4L} \quad \text{ó} \quad f_n = \frac{(2n+1)}{4L} \sqrt{\frac{T}{\mu}}$$

$$V = \lambda f$$

$$V = \sqrt{\frac{T}{\mu}}$$

$$f = \frac{V}{\lambda}$$

4. Una cuerda consiste de dos partes atadas en $x=0$. La parte derecha de la cuerda tiene masa por unidad de longitud μ_r y la parte izquierda tiene masa por unidad de longitud μ_l . La tensión de la cuerda es T . Si un pulso de amplitud unitaria viaja a lo largo de la parte izquierda de la cuerda, como se muestra en la figura. ¿Cuál es la amplitud del pulso transmitido a la parte derecha de la cuerda?



$$P_1 = P_2$$

$$\frac{1}{2} \mu_1 A_1^2 \omega^2 V_1 = \frac{1}{2} \mu_2 A_2^2 \omega^2 V_2$$

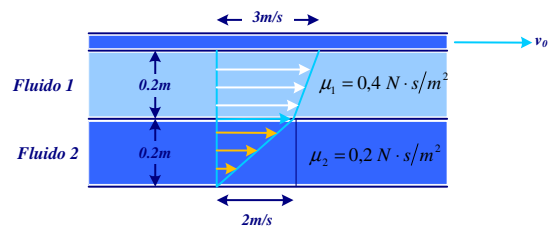
$$\mu_1 A_1^2 \sqrt{\frac{T}{\mu_1}} = \mu_2 A_2^2 \sqrt{\frac{T}{\mu_2}}$$

$$A_1^2 \sqrt{\mu_1} = \sqrt{\mu_2} A_2^2$$

$$A_2 = \left(\frac{\mu_l}{\mu_r} \right)^{1/4} A_l$$

SOLUCION DEL EXAMEN PARCIAL DE FISICA B, I TERMINO 2009 – 2010
DESARROLLADO POR VÍCTOR HUGO VELASCO GALARZA

5. Dos capas de fluido son arrastradas adelante por el movimiento de una placa superior como muestra la figura. La placa inferior es estacionaria (fija). El fluido superior pone una tensión de corte en la placa superior, y el fluido inferior pone una tensión de corte en la placa inferior. Determine la relación de estas dos tensiones de corte.



$$\eta = \frac{\tau}{\frac{\Delta V}{\Delta L}} \rightarrow \tau = \frac{\Delta V}{\Delta L} \eta$$

$$\left. \begin{aligned} \tau_1 &= \frac{\Delta V_1}{L_1} \eta_1 \\ \tau_2 &= \frac{\Delta V_2}{L_2} \eta_2 \end{aligned} \right\}$$

$$\frac{\tau_1}{\tau_2} = \frac{\Delta V_1}{\Delta V_2} \frac{\eta_1}{\eta_2} \quad ; \quad L_1 = L_2$$

$$\frac{\tau_1}{\tau_2} = \frac{(3-2)}{2} \left(\frac{0,4}{0,2} \right) = 3-2$$

$$\tau_1 = \tau_2$$